


PROVA NON ESTIMATA
N. 14.57

Sistema Socio Sanitario



Regione
Lombardia

ASST Niguarda

Venditti Adina
Cristina Soma

Martina Selva

Concorso pubblico per titoli ed esami per la copertura a tempo
indeterminato, di N. 3 posti di Assistente Amministrativo – CAT. C
Preselezione

PROVA 05

selexi[®]
test your future

E00001

1 **Le Bocche di Bonifacio sono il tratto di mare che separa la costa:**

- A** della Sardegna da quella della Corsica
- B** della Puglia da quella dell'Albania
- C** delle Marche da quella della Croazia

E00002

2 **In quale città si trova il Parlamento europeo?**

- A** Strasburgo
- B** Parigi
- C** L'Aia

E00003

3 **"Non si può non dimostrare la non estraneità dell'imputato al delitto". La precedente affermazione è equivalente a:**

- A** l'imputato non è estraneo al delitto
- B** il delitto è stato compiuto con l'ausilio determinante dell'imputato
- C** l'imputato potrebbe non avere a che fare alcunché con il delitto

E00004

4 **La prima persona singolare del passato remoto del verbo "cuocere" è:**

- A** cossi
- B** cuocetti
- C** cocetti

E00005

5 **Valerio investe 60.000 euro in un fondo che garantisce un rendimento annuo del 10% per 3 anni. A quanto ammonta l'incremento di valore registrato dalla sua partecipazione solamente nel primo anno?**

- A** 6.000 euro
- B** 7.260 euro
- C** A un importo identico a quello del secondo anno

E00006

6 **Un camion parte da un'enoteca con 156 bottiglie di vino. A causa di un incidente 3/13 di queste vengono distrutte; successivamente, mentre il camion viene portato in officina, un meccanico disonesto ruba altre 20 bottiglie. Quante bottiglie intatte rimangono sul camion?**

- A** 100
- B** 120
- C** 136

7 Quali, tra i termini proposti, completano correttamente la seguente proporzione verbale? Esplicare : X = interrompere : Y

- A** X = spiegare; Y = sospendere
- B** X = recitare; Y = mascherare
- C** X = travisare; Y = abbandonare

DIAGRAMMA RY 00

Individuare la relazione insiemistica esistente tra i termini dati.



DIAGRAMMA 1



DIAGRAMMA 2



DIAGRAMMA 3



DIAGRAMMA 4



DIAGRAMMA 5



DIAGRAMMA 6



DIAGRAMMA 7

8 Rispondere al seguente quesito facendo riferimento al DIAGRAMMA RY 00

E00008

Biondi, Farmacisti, Italiani

- A** Diagramma 5
- B** Diagramma 3
- C** Diagramma 4

9 La seconda guerra mondiale iniziò con:

E00009

- A** l'invasione della Polonia
- B** l'invasione della Cecoslovacchia
- C** l'annessione dell'Austria alla Germania

10 Chi è l'autore dell'opera "Dei delitti e delle pene"?

E00010

- A** Cesare Beccaria
- B** Ludovico Ariosto
- C** Silvio Pellico

11 Completare correttamente la seguente successione, utilizzando l'alfabeto italiano: V; 37; Z; 35; B; 34; C; 32; ?; ?

E00011

- A** E; 31
- B** D; 31
- C** E; 25

12 Qual è, tra i seguenti, il sinonimo di "scaltro"?

E00012

- A Accorto
- B Aspro
- C Codardo

13 Chi, fra i seguenti personaggi, fu un importante primo ministro britannico?

E00013

- A Winston Churchill
- B Bernard Law Montgomery
- C Harry Truman

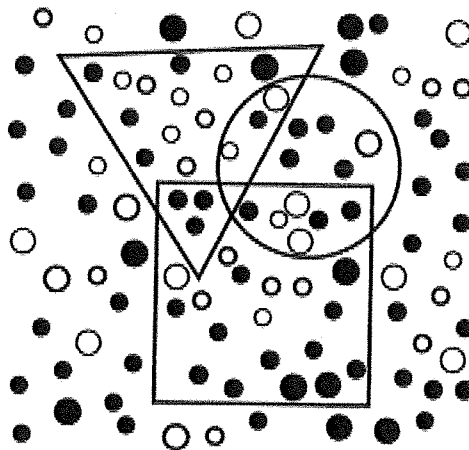
14 La capitale della Serbia è:

E00014

- A Belgrado
- B Lubiana
- C Zagabria

FIGURA SX 83

Nella figura sono rappresentate tre figure geometriche, un quadrato, un triangolo e un cerchio, che contengono dei pallini neri e bianchi.



15 Rispondere al seguente quesito facendo riferimento alla FIGURA SX 83
Quanti pallini neri sono contenuti nel triangolo, escludendo le intersezioni con il quadrato e con il cerchio?

E00015

- A 5
- B 6
- C 7

SCHEMA ZN 45



@	A	?	?	?	&	\$	£	£	A
\$	√	@	√	A	√	Σ	◊	&	√
&	£	Σ	£	Σ	@	£	√	A	√
◊	◊	&	&	?	Σ	\$	£	Σ	A
A	£	◊	£	◊	&	◊	◊	√	◊
Σ	&	√	◊	@	√	A	\$	Σ	A
@	◊	@	£	\$	◊	£	◊	£	\$
√	?	◊	&	√	&	◊	◊	@	?
A	\$	√	◊	Σ	?	A	√	◊	\$
@	◊	£	@	\$	Σ	√	£	&	@

16 Rispondere al seguente quesito facendo riferimento allo SCHEMA ZN 45
Qual è il numero di \$ presenti nella tabella?

E00016

- A** 9
- B** 10
- C** 15

FIGURA TT 30



1 **2** **3**

17 Rispondere al seguente quesito facendo riferimento alla FIGURA TT 30
Individuare la figura che completa la serie.

E00017

- A** Figura 3
- B** Figura 1
- C** Figura 2

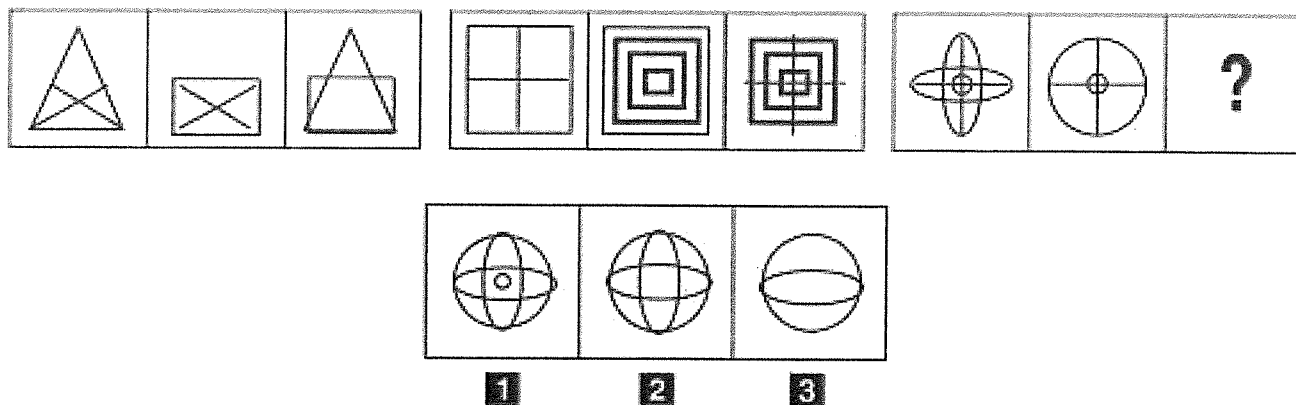
18 Quale, tra i seguenti politici italiani del secondo Novecento, è stato un leader del Partito Socialista Italiano?

E00018

- A** Bettino Craxi
- B** Mario Capanna
- C** Emma Bonino

Handwritten signatures and initials.

FIGURA SU 71



- 19 Rispondere al seguente quesito facendo riferimento alla FIGURA SU 71 E00019
Individuare la figura che completa la serie.
A Figura 2
B Figura 3
C Figura 1

- 20 E00020
Quale scrittore ha creato il personaggio di Oliver Twist?
A Charles Dickens
B Mark Twain
C Oscar Wilde

BRANO AF 76

Leggere il brano e rispondere a ogni quesito solo in base alle informazioni contenute (esplicitamente o implicitamente) nel brano e non in base a quanto il candidato eventualmente conosca sull'argomento.

Matteo Tacconi, giornalista, e Ignacio María Coccia, fotografo, raccontano in una mostra al *Goethe-Institut* le aspettative, le emozioni e le speranze delle giovani generazioni rispetto all'Europa e all'essere europei. Tacconi e Coccia hanno intervistato e fotografato i ragazzi nati dopo la caduta del Muro di Berlino, in quattro città molto diverse tra loro, Dresda e Bonn in Germania, Bari e Trieste in Italia. Ragazzi che sicuramente hanno un'altra prospettiva di Europa di chi all'epoca era adulto o magari solo adolescente. La scelta delle quattro città è stata molto accurata. Dresda è una città della ex Germania Orientale, che pur non avendo il fascino di Lipsia, è stata inserita nel progetto proprio perché ancora abbastanza chiusa e praticamente senza immigrazione. Al contrario Bonn, la ex capitale dell'Ovest, è invece una città cosmopolita e ricca di immigrati, anche del periodo precedente all'unificazione, è poco dispersiva, non è troppo piccola né troppo grande. Trieste, che si affaccia su tre mondi, quello italiano, quello slavo e quello mitteleuropeo, è stata scelta proprio per questo suo essere una sorta di unicum in Italia e in Europa. Mentre da Bari si voleva un punto di vista "da sud", con un occhio particolare alle comunità greche e albanesi presenti in città, perché, come sottolinea Tacconi "le latitudini e le longitudini contano". E danno prospettive diverse ai problemi. L'architetto e la concertista di Dresda, la ballerina che fa la spola tra Trieste e la Slovenia, il giornalista di Bonn che ha vissuto tre mesi senza usare plastica, e lo ha raccontato sul suo giornale. "Se i ragazzi pensano all'Europa, vuol dire che l'Europa esiste" conclude Tacconi, parafrasando Sant'Agostino "e anche l'uropeismo esiste tra i giovani, ma va coltivato".
 (Da: Giovanni Giusti "Nati dopo l'89, quattro reportage e una mostra fotografica", kalamon.it)

- 21 E00021
Rispondere al seguente quesito facendo riferimento al BRANO AF 76
Quale delle seguenti affermazioni, relative alla mostra di cui si parla nel testo, NON è corretta?
A Presenta una selezione di video-interviste
B Raccoglie le interviste di Tacconi e le fotografie di Coccia
C Si trova presso il *Goethe-Institut*

FP
 VR
 SS

-
- 22 **Rispondere al seguente quesito facendo riferimento al BRANO AF 76** E00022
Quale delle seguenti affermazioni è vera?
A Trieste, per ragioni storiche e geografiche, è un punto di incontro tra la cultura italiana, quella slava e quella mitteleuropea
B Dresda è definita la città più affascinante della Germania
C Dresda, in seguito alla caduta del muro, ha dato ospitalità a una vivace comunità straniera
-
- 23 **Rispondere al seguente quesito facendo riferimento al BRANO AF 76** E00023
Stando a quanto affermato nel testo, Bonn è:
A una città cosmopolita da decenni
B diventata una città cosmopolita solo dopo la caduta del muro
C una città praticamente senza immigrazione
-
- 24 **Rispondere al seguente quesito facendo riferimento al BRANO AF 76** E00024
Quale delle seguenti affermazioni è deducibile dal testo?
A Le città scelte per la mostra presentano tratti distintivi che le rendono, secondo gli autori, particolarmente interessanti
B Secondo il fotografo che si occupa della mostra, se l'Europa e l'europismo vengono pensati significa che esistono
C Secondo il giornalista che si occupa della mostra non basta pensare all'Europa e all'europismo perché questi concetti diventino reali
-
- 25 **Rispondere al seguente quesito facendo riferimento al BRANO AF 76** E00025
Stando a quanto riportato nel brano, quale delle seguenti storie è testimoniata nella mostra?
A Quella di una ballerina che attraversa regolarmente il confine italo-sloveno
B Quella di un architetto di Bonn
C Quella di una ballerina di Dresda
-
- 26 **Chi teorizzò per primo la struttura del DNA?** E00026
A Rosalind Franklin
B Einstein
C Wilkins
-
- 27 **Non esiste un fiore della varietà della rosa che sia di colore sangria. Ne segue logicamente che:** E00027
A se un fiore è di colore sangria, vuol dire che non è della varietà della rosa
B tutti i fiori della varietà della rosa sono di colore sangria
C tutti i fiori della varietà della rosa sono di colore pistacchio
-

E00028

28 **La Repubblica italiana garantisce i diritti inviolabili della persona nelle formazioni sociali?**

- A** Sì, ma anche come singolo
- B** Sì, ma solo in quelle formazioni sociali espressamente indicate dalla Costituzione
- C** No, garantisce solo la famiglia

E00029

29 **Secondo l'art. 32 della Costituzione italiana, i trattamenti sanitari obbligatori possono essere disposti:**

- A** soltanto per disposizione di legge
- B** con ordinanze amministrative
- C** a discrezione del medico ASL

E00030

30 **Chi è Kamala Harris?**

- A** La prima donna Vice Presidente degli Stati Uniti d'America
- B** La prima first lady afro-americana degli Stati Uniti d'America
- C** La prima speaker donna della Camera dei rappresentanti degli Stati Uniti d'America

E00031

31 **Dove si riunisce il Parlamento in seduta comune dei suoi membri?**

- A** Palazzo Montecitorio
- B** Palazzo Madama
- C** Palazzo della Consulta

E00032


32 **Nel 1909 venne fondato un importante movimento artistico italiano d'avanguardia. Quale?**


- A** Il Futurismo
- B** Il Surrealismo
- C** Il Primitivismo

E00033

33 **A tutto gennaio 2023, quale dei seguenti Paesi NON fa parte dell'Unione Europea?**

- A** Bosnia ed Erzegovina
- B** Francia
- C** Croazia



Handwritten initials 'FP' and a signature.

PROVA NON ESTIMATA h: 12:05

Valentina M...

Sistema Socio Sanitario



Regione Lombardia

ASST Niguarda

Tommaso...

Rosella...

PROVA NON ESTIMATA

h: 14:37 *Matteo...*
Venditti Adria
Cristina...

Concorso pubblico per titoli ed esami per la copertura a tempo indeterminato, di N. 3 posti di Assistente Amministrativo – CAT. C
Preselezione

PROVA 04



FP *[signature]* *[signature]*

1 Quale delle seguenti opere è stata scritta da Lev Tolstoj?

- A** Anna Karenina
- B** Le anime morte
- C** L'idiota

SCHEMA ZZ 27

»	#	ç	ç	#	U	A	»	>
A	Δ	§	A	»	»	§	U	§
§	»	#	§	ç	ç	§	A	»
#	Δ	»	»	U	»	ç	»	§
»	U	ç	Δ	§	»	Δ	#	A
»	>	#	»	ç	#	§	Δ	»
»	A	A	§	»	§	ç	»	Δ
»	Δ	#	ç	§	»	U	§	#
ç	U	»	§	A	#	>	Δ	Δ
#	»	U	#	»	>	»	»	U

2 Rispondere al seguente quesito facendo riferimento allo SCHEMA ZZ 27
Qual è il numero di § presenti nella tabella?

D00002

- A** 16
- B** 13
- C** 10

3 In quale Regione si trova la città di Cuneo?

D00003

- A** Piemonte
- B** Lombardia
- C** Emilia Romagna

4 La capitale della Lituania è:

D00004

- A** Vilnius
- B** Tallinn
- C** Ankara

5 Piergiorgio investe 30.000 euro in un fondo che garantisce un rendimento annuo del 40% per 3 anni. A quanto ammonta l'incremento di valore registrato dalla sua partecipazione solamente nel primo anno?

D00005

- A** 12.000 euro
- B** 23.520 euro
- C** A un importo identico a quello del secondo anno

D00006

- 6 In un cassetto vi sono calze blu e calze nere. Le calze blu sono il quadruplo delle calze nere e le superano di 12 paia. Quante paia di calze blu e quante paia di calze nere ci sono nel cassetto?
- A 16; 4
 - B 32; 8
 - C 20; 8

D00007

- 7 Quali, tra i termini proposti, completano correttamente la seguente proporzione verbale? Piastrella : pavimento = X : Y.
- A X = lettera; Y = parola
 - B X = balcone; Y = terrazza
 - C X = mosaico; Y = tessera

D00008

- 8 "È da escludere l'ipotesi secondo cui l'ottima conservazione dell'affresco non debba essere attribuita alla perizia dei restauratori". Basandosi sulla precedente affermazione, individuare quale delle seguenti alternative è esatta.
- A L'ottima conservazione dell'affresco deve essere attribuita alla perizia dei restauratori
 - B L'ottima conservazione dell'affresco non deve essere attribuita alla perizia dei restauratori
 - C L'affresco si è ben conservato senza alcun intervento da parte dei restauratori

D00009

- 9 Quale evento provocò l'intervento degli Stati Uniti d'America nella seconda guerra mondiale?
- A L'attacco giapponese di Pearl Harbour
 - B L'annessione dell'Austria alla Germania
 - C L'aggressione italiana all'Etiopia

D00010

- 10 In quale delle seguenti frasi è presente un congiuntivo imperfetto?
- A Se fossi alto giocherei a basket
 - B Era davvero una splendida serata
 - C Non ero mai stato così bene

D00011

- 11 Quale dei seguenti autori fu un esponente del Verismo?
- A Luigi Capuana
 - B Francesco Guicciardini
 - C Italo Calvino




DIAGRAMMA RY 00

Individuare la relazione insiemistica esistente tra i termini dati.



DIAGRAMMA 1



DIAGRAMMA 2

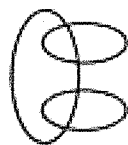


DIAGRAMMA 3



DIAGRAMMA 4



DIAGRAMMA 5



DIAGRAMMA 6



DIAGRAMMA 7

12

Rispondere al seguente quesito facendo riferimento al DIAGRAMMA RY 00

D00012

Fazzoletti, Tovaglie, Oggetti di carta

- A Diagramma 3
- B Diagramma 2
- C Diagramma 4

13

Individuare tra i termini seguenti un sinonimo di "impellente".

D00013

- A Urgente
- B Irrisolubile
- C Ineguagliabile

14

Secondo la carta costituzionale, la salute è:

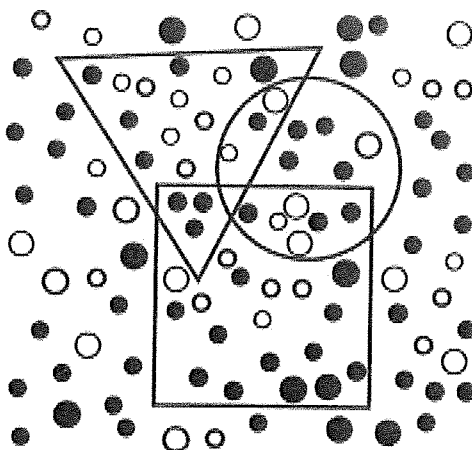
D00014

- A un diritto fondamentale dell'individuo e interesse della collettività
- B un interesse legittimo dei cittadini
- C un obiettivo cui tendere per tutti

FRVE
|
D

FIGURA SX 83

Nella figura sono rappresentate tre figure geometriche, un quadrato, un triangolo e un cerchio, che contengono dei pallini neri e bianchi.



15

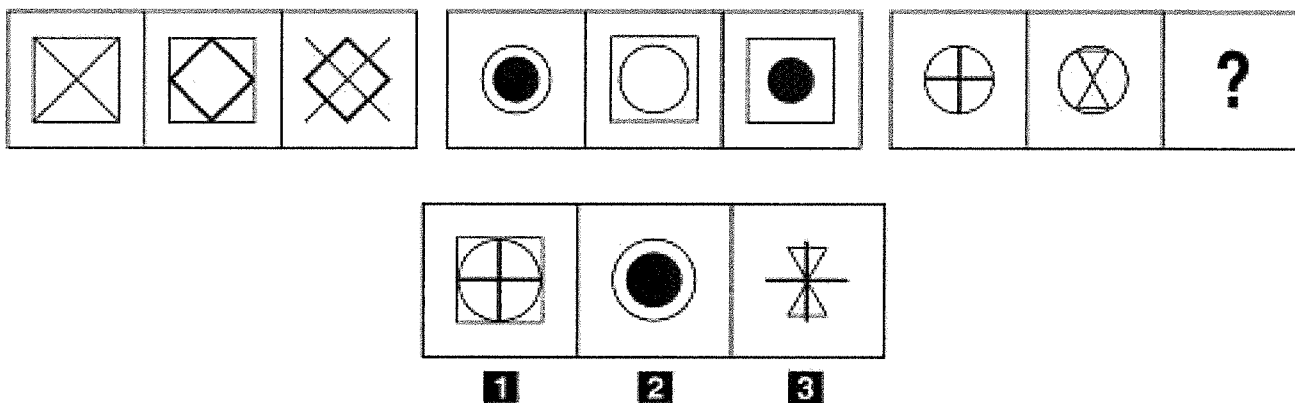
Rispondere al seguente quesito facendo riferimento alla FIGURA SX 83

D00015

Quanti pallini neri sono contenuti complessivamente nel cerchio e nel quadrato?

- A** 23
- B** 22
- C** 24

FIGURA SU 65



16

Rispondere al seguente quesito facendo riferimento alla FIGURA SU 65

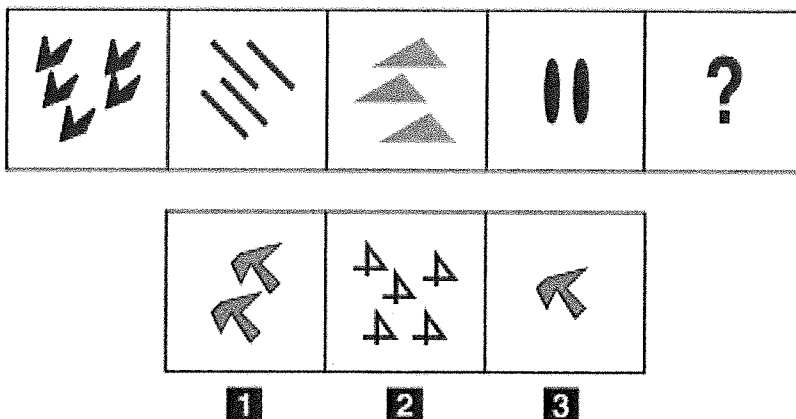
D00016

Individuare la figura che completa la serie:

- A** figura 3
- B** figura 2
- C** figura 1

Handwritten signatures and marks.

FIGURA SS 77



17 Rispondere al seguente quesito facendo riferimento alla FIGURA SS 77
Individuare la figura che completa correttamente la serie.

D00017

- A** Figura 3
- B** Figura 1
- C** Figura 2

BRANO AD 73

Leggere il brano e rispondere a ogni quesito solo in base alle informazioni contenute (esplicitamente o implicitamente) nel brano e non in base a quanto il candidato eventualmente conosca sull'argomento.

La sopravvivenza degli ecosistemi delle barriere coralline è messa a dura prova dal riscaldamento e dall'acidificazione dei mari. Ma c'è la speranza che in futuro le cose possano andare un po' meglio, considerata la notevole capacità di recupero che hanno dimostrato in un lontano passato.

Secondo John Parkinson della Oregon State University e colleghi, la simbiosi tra alghe e coralli – su cui si basa in gran parte l'ecosistema corallino – ebbe origine circa 160 milioni di anni fa e sopravvisse quindi a diversi cambiamenti climatici che interessarono il pianeta in quel lungo arco temporale, compresi quelli che portarono all'estinzione dei dinosauri.

"In passato, si stimava che l'inizio di queste relazioni simbiotiche fosse iniziata tra 50 e 65 milioni di anni fa: la nostra ricerca ora indica che i moderni coralli e i loro partner algali stanno insieme da circa 160 milioni di anni", ha commentato Todd LaJeunesse, professore associato di biologia della Penn State University e coautore dell'articolo. "E durante la loro esistenza, hanno dovuto affrontare diversi gravi episodi di cambiamento ambientale, ma sono riuscite a recuperare dopo ciascuno di essi".

Le barriere coralline sono formazioni sottomarine tipiche dei mari tropicali, cresciute per la successiva deposizione dello scheletro dei coralli, o antozoi, che sono colonie di piccoli animali chiamati polipi, ognuno grande solo pochi millimetri (sono polipi, per esempio, le comuni anemoni di mare e le madrepore).

I polipi ospitano al loro interno alghe microscopiche, o zooxantelle, stabilendo una tipica relazione di simbiosi, cioè di mutuo vantaggio. I polipi infatti ricevono dalle zooxantelle ossigeno e prodotti metabolici della fotosintesi e in cambio forniscono loro anidride carbonica, ammoniaca e altre sostanze utili.

Grazie a una serie di analisi comparative dei genomi e delle caratteristiche morfologiche delle zooxantelle, associate a simulazioni al computer, i ricercatori hanno ricostruito l'albero filogenetico di queste microalghe, scoprendo che sono molto più antiche di quanto si pensava.

La scoperta, avvertono però i ricercatori, non deve portare a un calo dell'attenzione nei confronti delle sfide ambientali attuali, ma anzi a rafforzare le politiche e i progetti di conservazione delle barriere coralline.

(Da: "Coralli e alghe: la simbiosi che sopravvisse ai dinosauri", Le Scienze, 13 agosto 2018)

18 Rispondere al seguente quesito facendo riferimento al BRANO AD 73
In base a quanto detto nel brano, che cosa fa ben sperare nella sopravvivenza delle barriere coralline in futuro?

D00018

- A** La loro capacità di recupero e adattamento
- B** Il riscaldamento globale
- C** Il cambiamento climatico

-
- 19 Rispondere al seguente quesito facendo riferimento al BRANO AD 73 D00019
Secondo le nuove ricerche della Oregon State University, la simbiosi tra alghe e coralli ha avuto inizio:
A 160 milioni di anni fa
B 50 milioni di anni fa
C 65 milioni di anni fa

-
- 20 Rispondere al seguente quesito facendo riferimento al BRANO AD 73 D00020
Secondo la definizione data dal brano, che cosa sono gli antozoi?
A Colonie di polipi che formano le barriere coralline
B Zooxantelle che vivono in simbiosi coi polipi
C Colonie di coralli, esclusi quelli prodotti dalle madrepore

-
- 21 Rispondere al seguente quesito facendo riferimento al BRANO AD 73 D00021
Perché la relazione tra polipi e zooxantelle può essere definita simbiotica?
A Perché è una relazione di mutuo vantaggio
B Perché si proteggono a vicenda dai predatori
C Perché si scambiano i prodotti di scarto

-
- 22 Rispondere al seguente quesito facendo riferimento al BRANO AD 73 D00022
La datazione delle alghe è stata realizzata:
A tramite lo studio genomico e morfologico, che ha permesso la ricostruzione del loro albero filogenetico
B tramite lo studio di fossili di alghe antiche
C tramite il confronto morfologico tra specie diverse di alghe

-
- 23 Completare correttamente la seguente successione, utilizzando l'alfabeto italiano: Q; 19; N; 20; I; 39; F; 59; ?; ? D00023
A C; 98
B N; 107
C B; 98

-
- 24 Thomas Edison è ricordato: D00024
A per aver inventato la lampadina
B per il Nobel per la fisica
C per i suoi contributi alla chimica

D00025

25 **Non esiste un fiore della varietà del ranuncolo che sia di colore viola. Ne segue logicamente che:**

- A** se un fiore è di colore viola, vuol dire che non è della varietà del ranuncolo
- B** tutti i fiori della varietà del ranuncolo sono di colore viola
- C** tutti i fiori della varietà del ranuncolo sono di colore sangria

D00026

26 **Quale delle seguenti affermazioni sul Regno Unito è corretta?**

- A** Ha lasciato l'Unione Europea all'inizio del 2020
- B** Lascerà l'Unione Europa a dicembre 2021
- C** La Scozia diventerà indipendente entro la fine del 2021

D00027

27 **L'articolo 3 della Costituzione italiana prevede espressamente che, al fine di garantire il pieno sviluppo della persona umana, sia compito della Repubblica rimuovere gli ostacoli di ordine:**

- A** economico e sociale
- B** politico
- C** generazionale

D00028

28 **Qual è la sede della Camera dei Deputati?**

- A** Palazzo Montecitorio
- B** Palazzo Madama
- C** Palazzo Chigi

D00029

29 **Con quale nome è conosciuto Michelangelo Merisi?**

- A** Caravaggio
- B** Perugino
- C** Tintoretto

D00030

30 **Quale delle seguenti frasi contiene un verbo servile?**

- A** Vorrei partire per il mare
- B** Siamo stati accompagnati fuori
- C** Fai quanto ti dico

31 Chi tra i seguenti personaggi storici NON è vissuto durante il Risorgimento?

- A Pietro Badoglio
- B Giuseppe Garibaldi
- C Giuseppe Mazzini

32 A tutto gennaio 2023, quale dei seguenti Paesi NON fa parte dell'Unione Europea?

- A Macedonia del Nord
- B Lituania
- C Portogallo

33 A quale evento storico è collegata la "marcia su Roma"?

- A Alla conquista del potere da parte del fascismo
- B Alla liberazione della capitale da parte dell'esercito alleato nel corso della II guerra mondiale
- C Alla conquista del potere da parte dei partigiani nel corso della II guerra mondiale

PROVA NON ESTRATTA 10.02

Sistema Socio Sanitario



Regione Lombardia

ASST Niguarda

[Handwritten signature]
Luzzone & M...
Pietro Mura C...
Marta G...

PROVA NON ESTRATTA h. 12:05

[Handwritten signature]
Pensello Quercia
[Handwritten signature]

[Handwritten signature]
Di Nisella

Concorso pubblico per titoli ed esami per la copertura a tempo indeterminato, di N. 3 posti di Assistente Amministrativo – CAT. C
Preselezione

PROVA 03

ESTRATTA ORE 14.55

[Handwritten signature]
Venduti Anna
Giustina Soma
[Handwritten signature]



[Handwritten signature]
[Handwritten signature]

DIAGRAMMA RY 00

Individuare la relazione insiemistica esistente tra i termini dati.



DIAGRAMMA 1



DIAGRAMMA 2

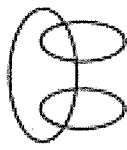


DIAGRAMMA 3



DIAGRAMMA 4



DIAGRAMMA 5



DIAGRAMMA 6



DIAGRAMMA 7

- 1 Rispondere al seguente quesito facendo riferimento al DIAGRAMMA RY 00 C00001
Francesi, Svizzeri, Sportivi
 A Diagramma 3
 B Diagramma 6
 C Diagramma 1
-
- 2 Quali, tra i termini proposti, completano correttamente la seguente proporzione verbale? Municipio : sindaco = X : Y C00002
 A X = piscina; Y = bagnino
 B X = muro; Y = uomo
 C X = città; Y = bandiera
-
- 3 Qual è la capitale dei Paesi Bassi? C00003
 A Amsterdam
 B L'Aja
 C Rotterdam
-
- 4 Una prova di ammissione è costituita da due test: 2/3 dei candidati supera il primo test e solo 1/6 di quelli che hanno superato il primo test supera anche il secondo. Su 180 candidati quanti saranno ammessi? C00004
 A 20
 B 120
 C 40

C00005

- 5 In una classe di 25 alunni tutti studiano almeno inglese o francese. Sapendo che 12 alunni studiano francese e 20 inglese, quanti studiano entrambe le lingue?
- A 7
 - B 12
 - C 5

C00006

- 6 Cosa accadde il 7 dicembre 1941?
- A I Giapponesi attaccarono la flotta americana a Pearl Harbor
 - B Gli USA dichiararono guerra al Giappone
 - C Gli USA lanciarono la prima bomba atomica sul Giappone

C00007

- 7 "Non posso non dichiarare la mia non convinzione in merito all'invalidità della tua teoria". La precedente affermazione è equivalente a:
- A non sono convinto dell'invalidità della tua teoria
 - B la tua teoria per me non è valida
 - C sono sicuro che la tua teoria non sia valida

C00008

- 8 Quale dei seguenti è sinonimo del termine "pavido"?
- A Timoroso
 - B Sazio
 - C Allettante

C00009

- 9 In base all'informazione "tutti i palazzi americani sono molto alti", quale delle seguenti affermazioni è necessariamente vera?
- A Non esistono palazzi americani bassi
 - B È impossibile negare che esista almeno un palazzo americano basso
 - C I palazzi americani non sono sicuramente i più alti del mondo

C00010

- 10 Quale delle seguenti opere è stata scritta da Italo Calvino?
- A *Il Barone rampante*
 - B *Fontamara*
 - C *Conversazioni in Sicilia*

11 Quale delle seguenti forme verbali è un gerundio presente?

- A** Essendo amato
- B** Amante
- C** Amare


12 L'art. 32 della Costituzione italiana prevede che nessuno possa essere obbligato a un determinato trattamento sanitario:

- A** se non per disposizione di legge
- B** se non per decreto del Presidente del Consiglio dei Ministri
- C** se non per decreto del Presidente della Repubblica

13 Completare correttamente la seguente frase: "Non nutro alcun dubbio ... le tue intenzioni fossero buone".

- A** che
- B** affinché
- C** poichè

FIGURA SS 16

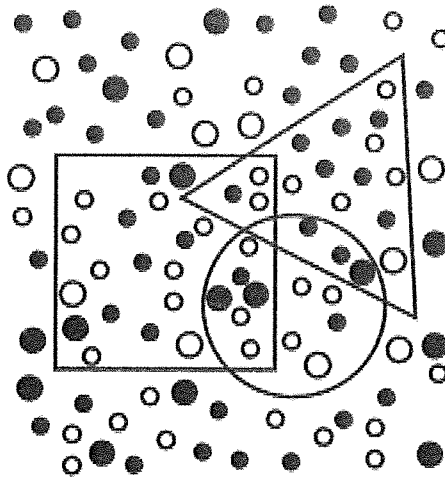


14 Rispondere al seguente quesito facendo riferimento alla FIGURA SS 16
Individuare la figura che completa la serie.

- A** Figura 3
- B** Figura 2
- C** Figura 1

FIGURA SX 82

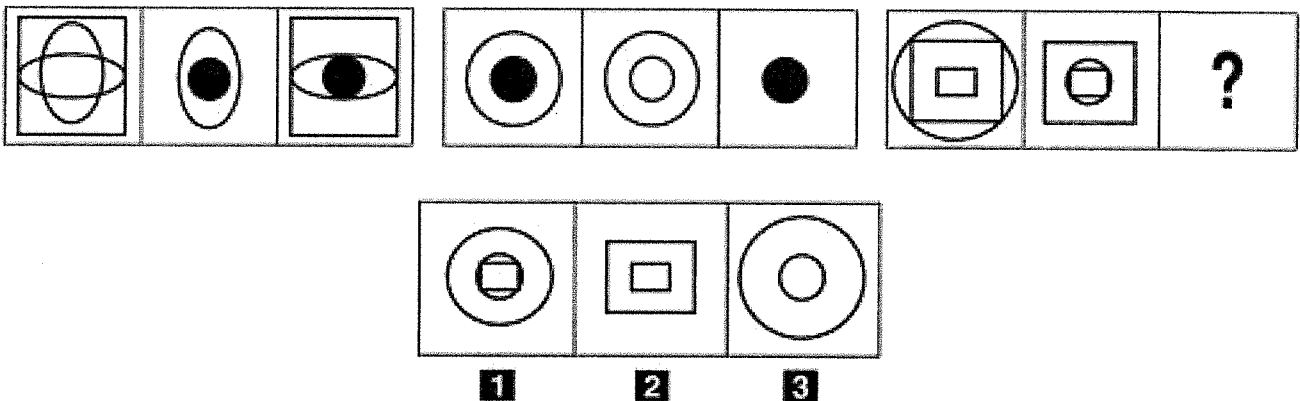
Nella figura sono rappresentate tre figure geometriche: un quadrato, un triangolo e un cerchio, che contengono dei pallini neri e bianchi.



- 15 Rispondere al seguente quesito facendo riferimento alla FIGURA SX 82 C00015
 Quanti pallini neri sono contenuti nel quadrato, escludendo l'area in comune con il cerchio?
A 9
B 8
C 11

- 16 Il capoluogo della Regione Veneto è: C00016
A Venezia
B Belluno
C Padova

FIGURA SU 55



- 17 Rispondere al seguente quesito facendo riferimento alla FIGURA SU 55 C00017
 Individuare la figura che completa correttamente la serie.
A Figura 3
B Figura 2
C Figura 1

Handwritten marks and scribbles at the bottom right of the page.

18

Chi scrisse "1984"?

- A** George Orwell
- B** Eric Hobsbawm
- C** Carl Schmitt

BRANO AC 86

Leggere il brano e rispondere a ogni quesito solo in base alle informazioni contenute (esplicitamente o implicitamente) nel brano e non in base a quanto il candidato eventualmente conosca sull'argomento.

Secondo uno studio, l'87% degli italiani non crede nei social network come fonte di notizie credibili, mentre l'82% non è in grado di riconoscere una bufala che circola sul web. La ricerca sull'universo mediatico italiano, giunta alla sua seconda edizione, ha coinvolto un campione d'indagine superiore ai 1.500 cittadini italiani, raccogliendo i dati sulla percezione del sistema mediatico, con particolare attenzione al livello di credibilità, fiducia e influenza delle fonti di informazione.

Dalla ricerca emerge l'assoluta dipendenza degli italiani dal web. Il 95% del campione utilizza quotidianamente Internet, quasi il 70% lo fa per più di tre ore al giorno e il 32% per più di cinque ore. La metà di questo tempo è impiegata sui social network. Una vera e propria overdose da web che comporta stati d'ansia (8,68%), insonnia (16,84%), confusione e frustrazione (6,38%), dolori di stomaco e mal di testa (8,36%) e dimenticanze (9,93%). I social media e i dispositivi digitali incidono anche sulle facoltà mentali dell'individuo, il pensiero profondo, l'attenzione e la memoria. Il 69,34% degli italiani registra e memorizza le informazioni di cui ha bisogno sul telefono, mentre il 79,93% ritiene di essere in grado di trovare facilmente le notizie di cui ha bisogno e tende a fare un largo uso di free media piuttosto che di media a pagamento.

Gli italiani sono iperconnessi eppure si fidano poco del web e dei social. Per l'87,24% degli italiani Facebook e compagni non offrono più opportunità di apprendere notizie credibili, ma per gli utenti questo non sembra costituire un problema. A riprova di ciò, per il 77,3% le fake news non indeboliscono la democrazia. "È innegabile che si tratti di dati inquietanti – ha spiegato Eugenio Lorio, coordinatore scientifico della ricerca – perché in un'infosfera così configurata i cittadini/utenti, sprovvisti dei più elementari strumenti di analisi e di critica della realtà e privi di qualsiasi strumento di difesa, tendono ad avere una visione distorta della realtà, una visione sempre più prossima a quella desiderata dai manipolatori delle loro capacità cognitive". Da questo punto di vista diventa fondamentale il ruolo della formazione delle nuove generazioni. "Il quadro negativo emerso dal rapporto "Infosfera" lancia un forte allarme al quale possono e debbono rispondere le scuole e le università impegnandosi nella formazione di una coscienza critica nei giovani che sia più preparata al bombardamento mediatico a cui oggi si viene sottoposti in maniera indiscriminata e incontrollata", ha detto il commissario dell'Agcom Mario Morcellini, a margine della presentazione del rapporto.

(Da: "L'82 per cento degli italiani non sa riconoscere una bufala sul web", *Repubblica.it*)

19

Rispondere al seguente quesito facendo riferimento al BRANO AC 86

C00019

Quale delle seguenti affermazioni NON è deducibile dal brano?

- A** Per la grande maggioranza degli italiani intervistati non potersi fidare delle notizie apprese dal web e social network è causa di stati d'ansia
- B** La maggior parte degli utenti del web consultano notizie e i social senza il minimo atteggiamento critico
- C** Gli utenti preferiscono avvalersi di fonti di informazione gratuite piuttosto che di quelle a pagamento

20

Completare correttamente la seguente successione, utilizzando l'alfabeto inglese: N; 16; K; 17; H; 33; E; 50; ?; ?

C00020

- A** B; 83
- B** C; 92
- C** A; 95

21 **Quale dei seguenti scienziati è considerato l'inventore del telefono?**

- A** Antonio Meucci
- B** Guglielmo Marconi
- C** Nikola Tesla

SCHEMA ZZ 04

μ	f	f	³	»	μ	»	»	»	f
R	R	Q	β	%	³	β	%	μ	%
»	%	%	μ	¾	%	»	f	β	³
μ	³	β	R	β	f	f	%	f	β
%	β	³	³	%	Q	R	³	%	»
f	β	μ	R	f	¾	»	%	μ	%
%	»	%	%	%	β	μ	β	³	R
¾	R	³	β	μ	β	»	%	β	Q
R	μ	»	¾	R	Q	β	f	%	»
μ	μ	μ	β	³	%	f	R	¾	μ

22 **Rispondere al seguente quesito facendo riferimento allo SCHEMA ZZ 04**

C00022

Il numero di » più il numero di Q è uguale a:

- A** 16
- B** 7
- C** 17

23 **In base alla Costituzione italiana, la Repubblica attua nei servizi che dipendono dallo Stato:**

C00023

- A** il più ampio decentramento amministrativo
- B** la più incisiva forma di federalismo
- C** i piani economici decennali

24 **Rispondere al seguente quesito facendo riferimento al BRANO AC 86**

C00024

Quale possibile soluzione viene avanzata per cercare di ovviare al quadro negativo emerso dal rapporto "Infosfera"?

- A** Potenziare il ruolo delle scuole e delle università al fine di favorire una coscienza critica nelle nuove generazioni
- B** Passare più ore a scuola e di conseguenza ridurre le ore passate sui social network
- C** Potenziare e migliorare i motori di ricerca delle notizie sui portali web

25 **Qual è la sede della Corte Costituzionale?**

C00025

- A** Palazzo della Consulta
- B** Palazzo Montecitorio
- C** Palazzo Chigi

26 **Frida Kahlo è stata una pittrice:**

- A** messicana
- B** venezuelana
- C** peruviana
- D**

27 **L'8 settembre 2022 è morta la Regina Elisabetta II. Il suo regno è stato il più lungo della storia britannica. Quanti anni è durato?**

- A** 70 anni
- B** 65 anni
- C** 50 anni
- D**

28 **Quale dei seguenti personaggi politici è di nazionalità cubana?**

- A** Fidel Castro
- B** Raúl Ricardo Alfonsín
- C** Simón Bolívar
- D**

29 **Rispondere al seguente quesito facendo riferimento al BRANO AC 86**

Dall'indagine sull'universo mediatico italiano emerge che:

- A** un eccessivo numero di ore passate sul web e l'uso prolungato di dispositivi digitali influiscono negativamente sulla salute dell'individuo
- B** l'82% degli intervistati non è in grado di distinguere una fake news, ma ritiene che i social network siano una valida fonte di informazione
- C** il 69,34% degli italiani riesce a ricordare a memoria le informazioni che ha appreso su Internet
- D**

30 **Rispondere al seguente quesito facendo riferimento al BRANO AC 86**


Quale delle seguenti alternative NON è deducibile dal brano in relazione alle fake news?

- A** Il 79,93% degli utenti intervistati si ritiene in grado di trovare facilmente una fake news
- B** Gli utenti intervistati in genere ne sottovalutano gli effetti dannosi
- C** Contribuiscono a creare una visione distorta della realtà in chi legge le notizie senza giudizio
- D**

31 **Rispondere al seguente quesito facendo riferimento al BRANO AC 86**

Che cosa si intende nel brano con il termine "infosfera"?

- A** La globalità dei mezzi d'informazione e comunicazione e il complesso delle informazioni che ne scaturisce
- B** La sfera d'influenza del web sugli utenti che quotidianamente vi accedono per ricercare informazioni
- C** La sfera psicologica degli utenti del web
- D**

SP 12


32

C00032

Che cosa indica l'acronimo MES?


- A Meccanismo Europeo di Stabilità
- B Meccanismo Europeo di Salvezza
- C Meccanismo Europeo Sovrastatale

33

C00033

A tutto gennaio 2023, quale dei seguenti Paesi NON è membro dell'Unione Europea?

- A Bielorussia
- B Croazia
- C Belgio




TRUVI
ESTRATTA 12.04

Valeria M...

Dr. Nicola Pavella Guardas

Sistema Socio Sanitario



Regione Lombardia

ASST Niguarda

PROVA NON ESTIMATA

N. 10:00

SS
Pavella Guardas
Luca Neri C...

Concorso pubblico per titoli ed esami per la copertura a tempo indeterminato, di N. 3 posti di Assistente Amministrativo – CAT. C
Preselezione

PROVA 02



1 PP 8/2

DIAGRAMMA RY 00

Individuare la relazione insiemistica esistente tra i termini dati.



DIAGRAMMA 1



DIAGRAMMA 2

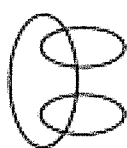


DIAGRAMMA 3



DIAGRAMMA 4




DIAGRAMMA 5

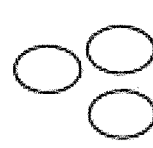


DIAGRAMMA 6



DIAGRAMMA 7

-
- 1 Rispondere al seguente quesito facendo riferimento al **DIAGRAMMA RY 00** B00001
Fiori, Frutta, Rose
A Diagramma 2
B Diagramma 4
C Diagramma 1
-
- 2 B00002
Anna ha età doppia di quella che Michele avrà quando Valentina avrà l'età che Anna ha oggi. Quale tra le seguenti alternative ordina i tre soggetti partendo dal più anziano al più giovane?
A Anna, Valentina, Michele
B Valentina, Michele, Anna
C Michele, Anna, Valentina
-
- 3 B00003
In un gruppo di 56 persone si trovano 42 laureati. Quale percentuale di persone del gruppo è costituita da NON laureati?
A 25%
B 15%
C 75%
-
- 4 B00004
Cos'era la Gestapo, nel Terzo Reich?
A La polizia segreta
B La guardia personale di Hitler
C Un corpo dell'esercito deputato alla gestione dei campi di concentramento

EP SR

5 **Qual è la capitale della Svizzera?** B00005
A Berna
B Zurigo
C Ginevra

6 **Individuare l'affermazione logicamente equivalente a: "Chi è assente non ha mai ragione".** B00006
A Gli assenti hanno sempre torto
B I presenti hanno sempre ragione
C Non è certo che gli assenti abbiano sempre torto

7 **Individuare il contrario del sostantivo "deroga".** B00007
A Conferma
B Ammissione
C Dispensa

8 **"Indolente" è un sinonimo di:** B00008
A pigro
B doloroso
C tenero

9 **Individuare l'abbinamento improprio:** B00009
A fenomeno – accidente
B ambiguo – certo
C esattezza – approssimazione

10 **In base all'articolo 32 della Costituzione, la Repubblica italiana:** B00010
A tutela la salute di tutti gli individui
B tutela la salute solo degli indigenti
C non tutela la salute della collettività

11 Quale dei seguenti romanzi porta la firma di Pier Paolo Pasolini?

- A** Ragazzi di vita
- B** Quer pasticciaccio brutto de via Merulana
- C** Il piacere

12 Completare correttamente la frase seguente: "Quell'uomo è tanto severo ... giusto".

- A** quanto
- B** più che
- C** purché

13 Il capoluogo delle Marche è:


- A** Ancona
- B** Ascoli Piceno
- C** Macerata

14 Completare correttamente la seguente successione, utilizzando l'alfabeto italiano: O; 17; L; 18; G; 35; D; 53; ?; ?

- A** A; 88
- B** L; 97
- C** Z; 100

FIGURA SX 82

Nella figura sono rappresentate tre figure geometriche: un quadrato, un triangolo e un cerchio, che contengono dei pallini neri e bianchi.



15 Rispondere al seguente quesito facendo riferimento alla FIGURA SX 82
Quanti pallini neri sono contenuti complessivamente nel cerchio e nel triangolo?

- A** 14
- B** 13
- C** 15

SCHEMA ZN 45

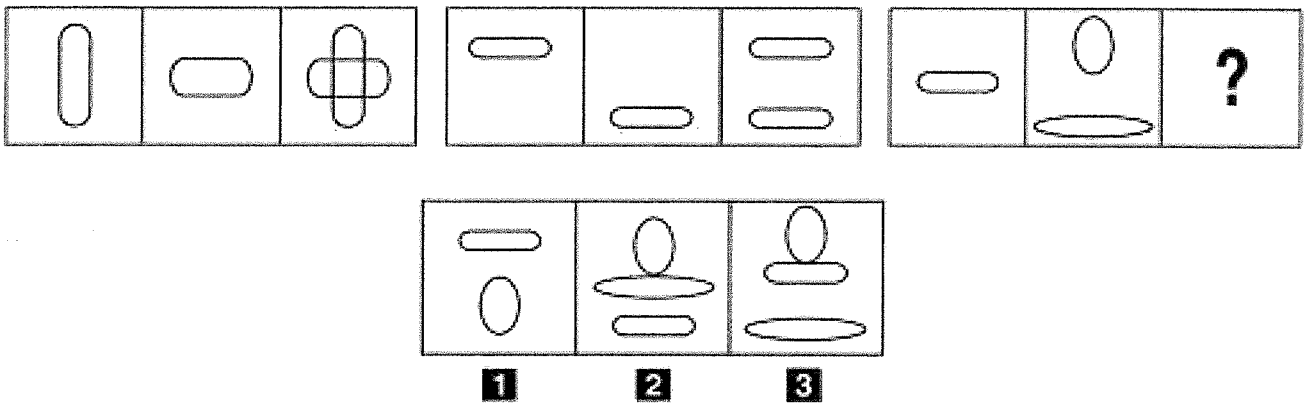
@	A	?	?	?	&	\$	£	£	A
\$	√	@	√	A	√	Σ	◊	&	√
&	£	Σ	£	Σ	@	£	√	A	√
◊	◊	&	&	?	Σ	\$	£	Σ	A
A	£	◊	£	◊	&	◊	◊	√	◊
Σ	&	√	◊	@	√	A	\$	Σ	A
@	◊	@	£	\$	◊	£	◊	£	\$
√	?	◊	&	√	&	◊	◊	@	?
A	\$	√	◊	Σ	?	A	√	◊	\$
@	◊	£	@	\$	Σ	√	£	&	@

16 Rispondere al seguente quesito facendo riferimento allo SCHEMA ZN 45
Il numero di @ meno il numero di A è uguale a:

B00016

- A** 0
- B** 8
- C** 4

FIGURA TT 71



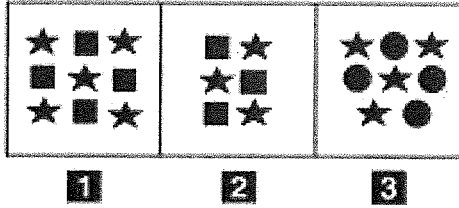

17 Rispondere al seguente quesito facendo riferimento alla FIGURA TT 71
Individuare la figura che completa correttamente la serie.

B00017

- A** Figura 3
- B** Figura 1
- C** Figura 2

Handwritten signatures and marks at the bottom right of the page.

FIGURA SR 31



18

Rispondere al seguente quesito facendo riferimento alla FIGURA SR 31

B00018

Completare correttamente la serie incompleta di figure.

- A** Figura 3
- B** Figura 1
- C** Figura 2

Handwritten marks and signatures at the bottom left of the page.

BRANO AM 81

Leggere il brano e rispondere a ogni quesito solo in base alle informazioni contenute (esplicitamente o implicitamente) nel brano e non in base a quanto il candidato eventualmente conosca sull'argomento.

Alla fine del 2016 e in concomitanza con l'elezione di Donald Trump, l'attenzione mondiale si è rivolta alle fake news: un fenomeno per il quale allora non esistevano studi approfonditi e nemmeno un vocabolario adeguato che potessero descriverlo. In pochi mesi ci siamo familiarizzati con le bolle di filtraggio e le camere dell'eco. E il termine fake news si è talmente diffuso ed espanso da consumarsi, fino a perdere il suo senso proprio. Un buon contributo al processo di desemantizzazione è stato di recente offerto da Donald Trump medesimo, con la creazione propagandistica di un "Fake news award", che ha etichettato e "premiato" come "fake" opinioni sgradite, pettegolezzi, semplici errori rapidamente corretti. Tutta roba che, insomma, non c'entra con le fake news. È un gioco di specchi che è necessario analizzare e capire [...], anche perché etichettare come fake qualsiasi informazione o dato che favorisca l'avversario sta diventando prassi corrente nel dibattito politico, e confonde ulteriormente i termini della questione. In pochi mesi, abbiamo anche visto Alphabet e Facebook, aziende che orientano il flusso mondiale dell'informazione in rete (e traggono il 90 per cento e più dei loro enormi guadagni dagli investimenti pubblicitari che ne derivano), passare dalla totale negazione del fenomeno delle fake news all'idea di doverci fare i conti. Cosa che, però, risulta assai meno facile di quanto potesse sembrare. [...]

Il fatto che il tema della verità delle notizie non sia più percepito come "nuovo" potrebbe oggi indurci a sottovalutarlo e a trascurarlo (be', basta, che noia, sono 18 mesi che ne parliamo, ecc.). Si tratta, però, di un errore da non fare: tutti noi, sempre, prendiamo decisioni in base a ciò che sentiamo e sappiamo. E se abbiamo a disposizione una mole crescente di informazioni sbagliate, che veicolano emozioni inappropriate, prenderemo sempre più spesso decisioni sbagliate e inappropriate. Per questo è davvero importante un recente studio svolto dal Massachusetts Institute of Technology (MIT) e pubblicato su Science, che per la prima volta analizza in modo estensivo i meccanismi di diffusione delle notizie false in rete. [...]

Lo studio del MIT considera il periodo tra il 2006 e il 2017. [...] Distingue tra notizie vere e false in base a un controllo attuato con sei diverse organizzazioni di fact checking. Attesta che, in tutte le categorie di informazione, e con un'accentuazione riguardante l'informazione politica, le notizie false si diffondono sempre molto più rapidamente, più ampiamente, più profondamente (cioè, con catene di retweet lunghe il doppio, e dieci volte più veloci) delle vere. Le bugie sono più potenti della verità. In estrema sintesi, sono queste "le fosche conclusioni del più grande studio mai fatto sulle notizie false", titola l'Atlantic in un ampio commento.

Se le notizie false viaggiano meglio e più in fretta c'è un singolo, semplice motivo: sono gli esseri umani, non gli algoritmi, a incrementarne la diffusione.

(Da: "L'amara verità sulle notizie false", Annamaria Testa, *Internazionale*)

-
- 19 **Rispondere al seguente quesito facendo riferimento al BRANO AM 81** B00019
Secondo il brano, quale tra le seguenti è un'attività diventata ormai di prassi tra i politici?
- A** Etichettare come fake news notizie, opinioni, informazioni che sostengano gli avversari
 - B** Catalogare come fake news qualsiasi notizia veicolata da Facebook e Alphabet
 - C** Appoggiarsi al "Fake news award" per veicolare fake news

-
- 20 **Rispondere al seguente quesito facendo riferimento al BRANO AM 81** B00020
Secondo il brano, quando l'attenzione mondiale si è concentrata sulle fake news?
- A** Alla fine del 2016, quando è stato eletto Donald Trump
 - B** Tra il 2006 e il 2017, ovvero nel periodo indagato dallo studio del MIT
 - C** Quando il MIT, tra il 2016 e il 2017, ha pubblicato il proprio studio sulle notizie false

-
- 21 **Rispondere al seguente quesito facendo riferimento al BRANO AM 81** B00021
Secondo il brano, com'è avvenuta la desemantizzazione della definizione "fake news"?
- A** Attribuendo tale definizione a informazioni che non hanno nulla a che vedere con le notizie false
 - B** Utilizzando bolle di filtraggio e le camere dell'eco
 - C** Dopo lo studio del MIT, che ha dimostrato come le fake news non esistano

-
- 22 Rispondere al seguente quesito facendo riferimento al BRANO AM 81 B00022
Secondo il brano, lo studio del MIT sostiene che le notizie false hanno maggiore e più rapida diffusione perché:
A sono gli esseri umani ad aumentarne la diffusione
B sono gli algoritmi di Facebook ad aumentarne la diffusione
C sono gli algoritmi di Alphabet ad aumentarne la diffusione

-
- 23 Rispondere al seguente quesito facendo riferimento al BRANO AM 81 B00023
Secondo il brano, perché è pericoloso non considerare importante il tema della verità delle notizie?
A Perché le decisioni delle persone derivano da ciò che sanno e sentono
B Perché altrimenti il termine "fake news" viene desementizzato
C Perché altrimenti Facebook e Alphabet deterranno un potere assoluto sulla diffusione delle notizie

-
- 24 Chi ha scritto l'"Ulisse"? B00024
A James Joyce
B Alberto Moravia
C Alessandro Baricco

-
- 25 Qual è il passato remoto, attivo, prima persona singolare, del verbo "sorseggiare"? B00025
A Sorseggiai
B Sorseggiavo
C Sorseggerei

-
- 26 La pastorizzazione è un metodo per la conservazione dei cibi che si deve agli studi di: B00026
A Louis Pasteur
B Wilhelm C. Röntgen
C Marie Curie

-
- 27 Ai sensi dell'articolo 3 della Costituzione italiana: B00027
A tutti i cittadini hanno pari dignità sociale e sono eguali davanti alla legge
B tutte le persone hanno pari dignità sociale e sono eguali davanti alla legge
C tutti i cittadini maggiorenni hanno pari dignità sociale e sono eguali davanti alla legge

28

B00028

Il Governo italiano ha sede:

- A** a Palazzo Chigi
- B** al Quirinale
- C** a Palazzo Montecitorio

29

B00029

Picasso è un caposcuola del movimento denominato:

- A** cubismo
- B** astrattismo
- C** espressionismo

30

B00030

Chi era Otto von Bismarck?

- A** Il Cancelliere prussiano che unificò la Germania
- B** Il banchiere svizzero che finanziò la spedizione dei Mille
- C** Il patriota cecoslovacco che partecipò alla Repubblica Romana

31

B00031

Cosa indica l'acronimo UNICEF?

- A** Il Fondo delle Nazioni Unite per l'Infanzia
- B** Il Fondo internazionale per la cooperazione economica delle Nazioni Unite
- C** Il Fondo internazionale per la cooperazione europea delle Nazioni Unite

32

B00032

A tutto gennaio 2023, quale dei seguenti Paesi NON è membro dell'Unione Europea?

- A** Moldavia
- B** Croazia
- C** Lettonia

33

B00033

"La visita ortopedica non ha consentito di dimostrare l'impossibilità che il pollice sia rotto". Qual è il corretto significato della precedente affermazione?


- A** La visita ortopedica non ha dimostrato che il pollice non è rotto
- B** La visita ortopedica ha dimostrato che il pollice non può essere rotto
- C** La visita ortopedica ha dimostrato che il pollice è rotto

PROVA ESTRATTA ore 10.01

SS

*Perone & W
evate More Colle
Michele Geo*

Sistema Socio Sanitario



Regione
Lombardia

ASST Niguarda

Concorso pubblico per titoli ed esami per la copertura a tempo
indeterminato, di N. 3 posti di Assistente Amministrativo – CAT. C
Preselezione

PROVA 01

selexi[®]
test your future

FP

SS

SS

|

A00001

1 Completare correttamente la seguente successione, utilizzando l'alfabeto italiano: F; 10; E; 11; D; 21; C; 32; ?; ?

A B; 53

B B; 42

C A; 43

A00002

2 "Il professore è molto preparato: se riceve una domanda, risponde sempre. Se nessuno pone domande al professore, il preside si arrabbia. Ieri il professore non ha dato risposte". Se le precedenti affermazioni sono vere, è possibile dedurre che ieri:

A il professore era molto preparato e il preside si è arrabbiato

B il professore ha ricevuto domande e il preside non si è arrabbiato

C il professore non era preparato

A00003

3 Una classe di 40 studenti deve essere divisa in piccoli gruppi costituiti da 3, 4 oppure 5 studenti. Qual è il massimo numero di gruppi che è possibile formare?

A 13

B 12

C 11

A00004

4 Chi è l'autore del dramma *Sogno di una notte di mezza estate*?

A William Shakespeare

B Jean-Paul Sartre

C Carlo Goldoni

A00005

5 Il sistema di aiuti economici all'Europa messo a punto negli Stati Uniti nel secondo dopoguerra si chiamava:

A Piano Marshall

B Trattato di Maastricht

C New Deal

A00006

6 Qual è stata la percentuale di sconto se un capo di abbigliamento che costava 50 euro viene venduto a 48 euro?

A 4%

B 6%

C 2%

7 La capitale della Turchia è:

- A Ankara
- B Istanbul
- C Rabat

8 Quale, tra i termini proposti, completa correttamente la seguente proporzione verbale? Opaco : trasparente = X : franco

- A X = ipocrita
- B X = vetro
- C X = svizzero

9 Un sinonimo di "agreste" è:

- A rustico
- B urbano
- C stradale

10 In base alla Costituzione italiana, si può essere obbligati a un determinato trattamento sanitario?

- A No, se non per disposizione di legge e comunque nel rispetto della persona umana
- B No, mai
- C Sì, ma solo per atto motivato dell'autorità giudiziaria

DIAGRAMMA RY 00

Individuare la relazione insiemistica esistente tra i termini dati.



DIAGRAMMA 1



DIAGRAMMA 2



DIAGRAMMA 3



DIAGRAMMA 4



DIAGRAMMA 5



DIAGRAMMA 6



DIAGRAMMA 7

11 Rispondere al seguente quesito facendo riferimento al DIAGRAMMA RY 00

Uomini sposati, Persone di nome Antonio, Madri di famiglia

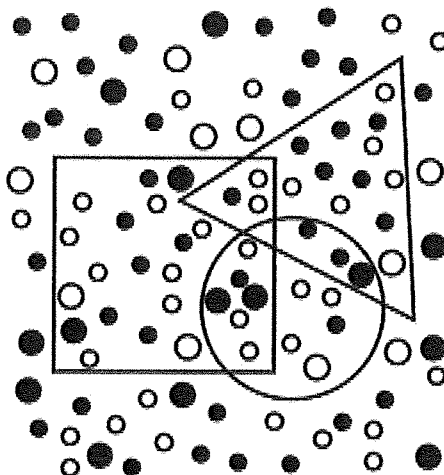
- A Diagramma 1
- B Diagramma 4
- C Diagramma 3

12 In quale periodo è ambientato "I promessi sposi"?

- A** Nel XVII secolo
- B** Nella prima metà dell'Ottocento
- C** Nel Settecento

FIGURA SX 82

Nella figura sono rappresentate tre figure geometriche: un quadrato, un triangolo e un cerchio, che contengono dei pallini neri e bianchi.



13 Rispondere al seguente quesito facendo riferimento alla FIGURA SX 82
Quanti pallini neri sono contenuti complessivamente nel cerchio e nel quadrato?

A00013

- A** 16
- B** 18
- C** 14

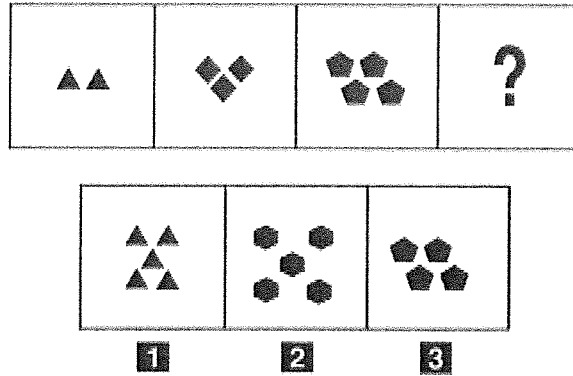
14 Individuare tra i seguenti un contrario di "greve".

A00014

- A** Leggero
- B** Futile
- C** Pesante

BIV
SP

FIGURA SN 98



15 Rispondere al seguente quesito facendo riferimento alla FIGURA SN 98
 Completare correttamente la serie incompleta di figure.

A00015

- A** Figura 2
- B** Figura 1
- C** Figura 3

16 In quale delle seguenti Regioni si trova l'area geografica della Maremma?

A00016

- A** Toscana
- B** Lombardia
- C** Abruzzo

17 Completare correttamente la frase seguente. "Ti farebbe un assegno, se ... il libretto".

A00017

- A** avesse
- B** aveva
- C** avrebbe

[Handwritten signature and scribbles]

BRANO MC 92

Leggere il brano e rispondere a ogni quesito solo in base alle informazioni contenute (esplicitamente o implicitamente) nel brano e non in base a quanto il candidato eventualmente conosca sull'argomento.

Complementare a quello dello sviluppo è certamente il mito dell'"energia". Il richiamo odierno all'energia è continuo, ossessivo, la preoccupazione per l'energia e per la perdita di energia è prioritaria e aggressiva.

Avere energia, sviluppare energia è un imperativo ontologico. Ogni nostra attività deve allo stesso tempo sviluppare energia ed esserne sorretta. Il consumo di energia non deve comportare alcuna perdita, l'energia deve essere continuamente ravvivata e rimpiazzata.

La caduta dell'energia è una perdita d'identità, uno smarrimento. L'esaurimento, fisico, nervoso, è l'autentico spauracchio dell'uomo occidentale contemporaneo, procacciatore smanioso e inesausto di nuovi strumenti, alimenti, discipline energizzanti. L'energia, come fondamento della vita del nostro sistema industrializzato – l'energia elettrica, l'energia nucleare, il petrolio – è il suo autentico nucleo ontologico, il suo motore indispensabile. Senza energia il mondo si arresta, si paralizza, e l'interruzione, la paralisi, il "blocco" (il black-out) è proprio l'angoscia profonda di questa epoca.

Il black-out è esorcizzato dall'impero della luce che sempre più, anche nelle ore notturne, mira ad azzerare il contatto con l'ignoto e l'invisibile. La visibilità è l'orizzonte necessario di questo mondo, che disegna il limite del suo controllo.

La frontiera del visibile si espande, nulla può passare inosservato: la moltiplicazione dei sensori, dagli allarmi a raggi infrarossi, alle telecamere poste ovunque, dalle visioni della medicina magnetica e nucleare, alla pervasività dei mezzi televisivi su ogni sfaccettatura dell'esperienza, articola in modo forsennato le forme della visibilità, estirpando la possibilità del nascondimento, del ritiro.

Così eccoci rinchiusi in un universo di totale visibilità e di continuo movimento, sempre in debito di energia, sempre alla ricerca di un alimentatore. Energy è lo slogan dei nostri tempi, il nome che si può attribuire a qualunque cosa "faccia andare avanti", il bisogno e l'imperativo emergente e ridondante. Non si può restare fermi, neppure un attimo, e tantomeno arretrare, se non a rischio di perdersi, di non poter più raccogliere le "sfide" che ci vengono poste, senza poter più approfittare delle chance.

L'"uomo d'azione" è tonico, scattante, fulmineo, sempre in tiro, puntuale, non prolisso, senza aloni. Non ci sono sfasature tra obiettivi e azioni, non discrepanze tra atteggiamenti e opinioni, egli è un uomo tutto d'un pezzo, ed è quindi affidabile, rassicurante. La sua visibilità è godibile, è fotogenico, il suo aspetto non è mai trasandato, perché la trasandatezza è compagna dell'indolenza, della sonnolenza, della lascivia. E dunque anche moralmente serio, pulito, corretto. Questa maschera, questa persona è un mito potentissimo e ne è la riprova la necessità di chi vi si oppone di abbruttirsi in un modo esagerato.

(Da: Paolo Mottana, "Energy, da Miti d'oggi nell'educazione", Franco Angeli, 2004)

18 Rispondere al seguente quesito facendo riferimento al BRANO MC 92 A00018
Secondo l'autore del brano, l'energia:

- A** è considerata fondamentale nel mondo occidentale contemporaneo, sia per il funzionamento del sistema, sia a livello umano personale
- B** fortunatamente è inesauribile
- C** è un mito strettamente connesso a quello della fotogenia

19 Rispondere al seguente quesito facendo riferimento al BRANO MC 92 A00019
Perché l'autore del brano sostiene che "Energy" sia lo slogan dei nostri tempi?

- A** Perché lo stile di vita dominante si basa sul bisogno costante di energia
- B** Perché la visibilità è la priorità di molti
- C** Perché grazie all'energia funzionano le fabbriche

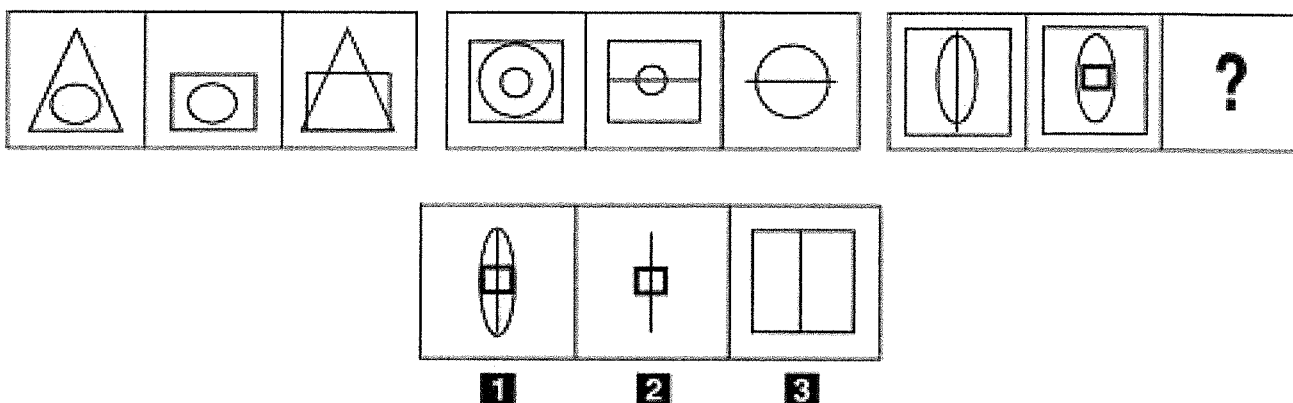
20 Rispondere al seguente quesito facendo riferimento al BRANO MC 92 A00020
Secondo quanto riportato nel brano, cosa angoscia profondamente l'uomo occidentale contemporaneo?

- A** Il black-out, nel senso dell'interruzione non voluta dell'energia, anche a livello personale nella forma di un esaurimento fisico e nervoso
- B** Il black-out, solo nel senso dell'interruzione temporanea dell'energia elettrica, che causa buio improvviso
- C** La mancanza di un riscontro televisivo su ogni sfaccettatura dell'esperienza

- 21 Rispondere al seguente quesito facendo riferimento al BRANO MC 92 A00021
 Secondo quanto riportato nel brano, l'"uomo d'azione":
A è energico, efficiente e sempre presentabile
B è falso
C si cura di tutto ma non del proprio aspetto

- 22 Rispondere al seguente quesito facendo riferimento al BRANO MC 92 A00022
 Secondo quanto riportato nel brano, quale delle seguenti affermazioni sulla visibilità è corretta?
A Permette il controllo sulle cose
B Nessuno ne può più fare a meno
C Serve a far "andare sempre avanti" le cose e le persone

FIGURA SU 53



- 23 Rispondere al seguente quesito facendo riferimento alla FIGURA SU 53 A00023
 Individuare la figura che completa la serie.
A Figura 2
B Figura 1
C Figura 3

- 24 In base all'art. 4 della Costituzione italiana: A00024
A la Repubblica riconosce a tutti i cittadini il diritto al lavoro e promuove le condizioni che rendano effettivo questo diritto
B la Repubblica riconosce a tutti i cittadini maggiorenni il diritto al lavoro e promuove le condizioni che rendano effettivo questo diritto
C la Repubblica riconosce a tutti gli italiani il diritto al lavoro e promuove le condizioni che rendano effettivo questo diritto

- 25 Chi ha teorizzato la legge di gravitazione universale? A00025
A Isaac Newton
B Albert Einstein
C Niccolò Copernico

SCHEMA ZZ 04

μ	f	f	³	»	μ	»	»	»	f
R	R	Q	β	%	³	β	%	μ	%
»	%	%	μ	¾	%	»	f	β	³
μ	³	β	R	β	f	f	%	f	β
%	β	³	³	%	Q	R	³	%	»
f	β	μ	R	f	¾	»	%	μ	%
%	»	%	%	%	β	μ	β	³	R
¾	R	³	β	μ	β	»	%	β	Q
R	μ	»	¾	R	Q	β	f	%	»
μ	μ	μ	β	³	%	f	R	¾	μ


26 Rispondere al seguente quesito facendo riferimento allo SCHEMA ZZ 04 A00026
 Il numero di % meno il numero di f è uguale a:
 A 8
 B 9
 C 5

27 Alcide De Gasperi fu: A00027
 A un Presidente del Consiglio della Repubblica italiana
 B lo scopritore della penicillina
 C il fondatore del Movimento sociale italiano

28 Qual è l'organismo che cura la redazione dei censimenti della popolazione italiana? A00028
 A L'ISTAT
 B Il CENSIS
 C L'EURISPES

29 A tutto gennaio 2023, quale dei seguenti Paesi NON fa parte dell'Unione Europea? A00029
 A Norvegia
 B Estonia
 C Francia

30 Dove ha sede la Presidenza della Repubblica italiana? A00030
 A Al Quirinale
 B A Palazzo Madama
 C A Montecitorio

DP


31

A00031

L'americano Andy Warhol è stato uno dei maestri:

- A** della pop art
- B** del surrealismo
- C** del futurismo

32

A00032

Individuare l'alternativa in cui figura un verbo in forma passiva.

- A** Il latte viene ora raccolto in queste vasche
- B** Una stalla moderna come questa non inquina l'ambiente
- C** I prodotti delle stalle italiane sono nettamente superiori a quelli del resto d'Europa

33

A00033

“L'esame dell'affresco non ha consentito di dimostrare l'impossibilità che l'autore sia il grande Michelangelo.”

Qual è il corretto significato della precedente affermazione?

- A** Michelangelo potrebbe essere l'autore dell'affresco
- B** Michelangelo è l'autore dell'affresco
- C** È impossibile che l'autore dell'affresco non sia Michelangelo

